



ΔΗΜΟΤΙΚΟ ΣΧΟΛΕΙΟ .....




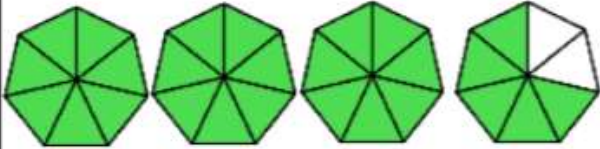
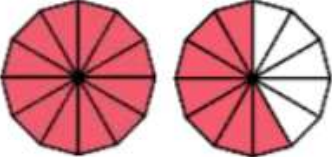

Όνομα: \_\_\_\_\_ Τάξη: \_\_\_\_\_

Μικτοί αριθμοί και καταχρηστικά κλάσματα (Μάθημα 1-2)

**1. Να συμπληρώσεις.**


*Καταχρηστικό κλάσμα*

*Μικτός αριθμός*

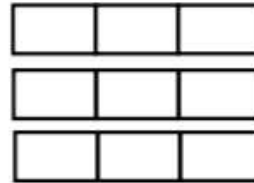
		
		
		
		
		
		

**2. Να συμπληρώσεις.**

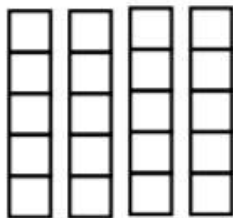
A)  $1\frac{1}{4}$  είναι ισοδύναμο με —



B)  $2\frac{2}{3}$  έχει την ίδια αξία με —



Γ)  $3\frac{1}{5}$  είναι ισοδύναμο με —



Δ)  $4\frac{4}{6}$  είναι ισοδύναμο με —



**3. Να μετατρέψεις τους μικτούς αριθμούς σε κατακρηστικά κλάσματα**

$$1\frac{5}{6} =$$

$$4\frac{2}{10} =$$

$$2\frac{4}{9} =$$

$$5\frac{3}{8} =$$

$$2\frac{2}{7} =$$

$$6\frac{4}{7} =$$

$$2\frac{7}{12} =$$

$$8\frac{5}{8} =$$

$$3\frac{6}{9} =$$

$$9\frac{7}{11} =$$

$$7\frac{3}{6} =$$

$$4\frac{3}{5} =$$

$$\frac{9}{4} =$$

$$\frac{19}{5} =$$

$$\frac{37}{6} =$$

$$\frac{53}{10} =$$

$$\frac{27}{4} =$$

$$\frac{41}{8} =$$

$$\frac{37}{5} =$$

$$\frac{49}{10} =$$