



Μαθηματικά Α΄


1. Να γράψεις τους αριθμούς.



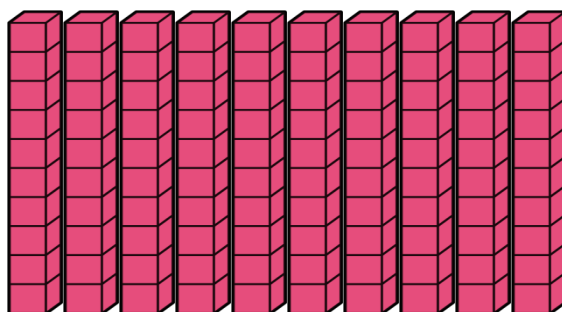
_____ δεκάδες



_____ δεκάδες



_____ δεκάδες



_____ δεκάδες

2. Χρωμάτισε όσα δείχνει ο αριθμός.

70

100

3. Συνέχισε το μοτίβο

10, 20, 30, _____, _____, _____, _____, _____, _____

30, 40, 50, _____, _____, _____, _____, _____

100, 90, _____, _____, _____, _____, _____, _____

4. Γράψε $<$, $>$, $=$ όπου ταιριάζει.

30 _____ 40 10 _____ 30 50 _____ 100 70 _____ 80

20 _____ 10 90 _____ 70 30 _____ 60 40 _____ 40

50 _____ 90 80 _____ 30 100 _____ 100 100 _____ 10