


Μαθηματικά Α΄

1. Βοήθησε το ποντικάκι να βρει το τυρί.



shutterstock.com • 1254837706

20	10	30	10	40	20
40	20	80	60	70	60
70	30	40	50	80	90
60	80	90	80	50	100



2. Βάλε τους αριθμούς στη σειρά ξεκινώντας από τον μικρότερο.
90, 60, 30, 50, 70, 10, 20

_____ / _____ / _____ / _____ / _____ / _____ / _____

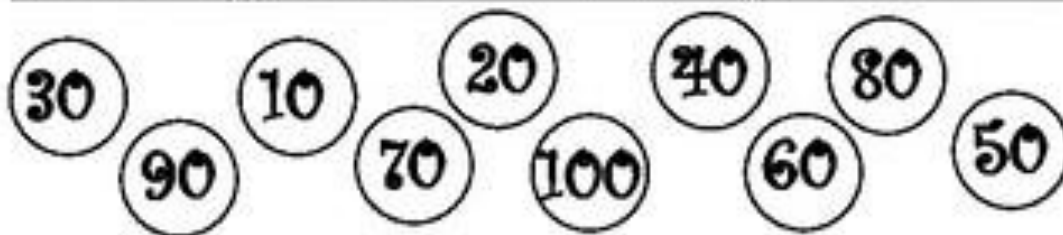
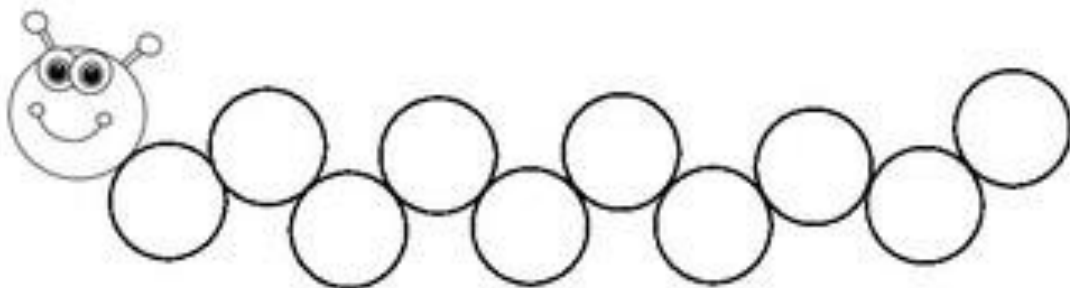
3. Βάλε τους αριθμούς στη σειρά αρχίζοντας από τον μεγαλύτερο.

60, 100, 40, 30, 10, 70, 90

_____ / _____ / _____ / _____ / _____ / _____ / _____

4. Συμπλήρωσε τους αριθμούς που λείπουν από το σκουληκάκι.

THE SKIP COUNTING CATERPILLAR



<https://ecdn.teacherspayteachers.com/thumbitem/Skip-counting-10-s-Caterpillar-5194916-1579967169/original-5194916-1.jpg>

5. Να γράψεις πόσους κύβους έχει το κάθε παιδί.



Έχω 7
δεκάδες
κύβους

Έβη _____ κύβους



Έχω 2 δεκάδες
κύβους
περισσότερους
από την Έβη.

Δημήτρης _____ κύβους